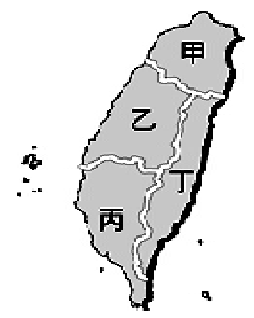


高雄市立大灣國中 106 學年度第二學期一年級第三次評量社會科試題卷

※答案卡個人資料畫記錯誤將扣得分總分 5 分

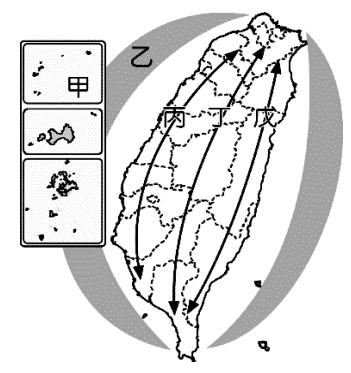
- () 1. 根據產業、經濟的發展，下列有關台灣各個區域的發展特色，哪些敘述正確？(甲)臺南市以文化古都聞名全臺 (乙)宜蘭縣是臺灣蔬菜的最大產地 (丙)臺中市是中部最大的城市 (丁)南投縣是觀光資源豐富的內陸縣。 (A)甲乙 (B)丙丁 (C)甲丙丁 (D)乙丙丁。
- () 2. 臺灣各區域在不斷的發展下，逐漸產生各自的特色，我們可以依這些特色，大致將臺灣本島分為四大區域，如右圖，下列敘述哪些錯誤？
 (a)甲區域有典型的鹽田、養殖漁業景觀 (b)乙區域原住民眾多，文化分歧
 (c)丙區域都會區的地形以平原為主體 (d)丁區域是臺灣的穀倉。
 (A) ab (B) cd (C) abd (D) abcd。
- () 3. 外國遊客如果想要欣賞臺灣原住民的文化特色，可以前往下列哪個縣市？
 (A)台中市 (B)彰化縣 (C)臺東縣 (D)金門縣。
- () 4. 觀光局為推廣臺灣的無煙囪工業拍攝許多形象廣告，希望吸引更多國人前往各區域旅遊。下列有關各區域廣告句的配對，哪些敘述錯誤？(甲)北部區域：結合休閒與文創，公路花園 (乙)中部區域：政經文化中心，臺灣首要門戶 (丙)東部區域：優質樂活旅遊，關山米乖乖 (丁)金馬地區：濃烈高粱灌入喉，南竿北竿走透透。 (A)甲乙 (B)丙丁 (C)甲乙丙 (D)甲乙丙丁。
- () 5. 有關臺灣各個區域發展的敘述，下列哪些內容錯誤？(甲)東部區域人口增加率較南部區域高 (乙)中部區域第一級產業就業人口比例低於北部區域 (丙)北部區域第三級產業就業人口比例最高 (丁)金馬地區目前以第一級產業為發展重點。 (A)甲乙 (B)丙丁 (C)甲乙丁 (D)甲乙丙丁。
- () 6. 臺灣北部區域為人口大量移入的地區，其最主要的原因是什麼？
 (A)北部區域農林漁牧業均發達 (B)中央政府位於北部區域
 (C)北部區域自然環境優於其他區域 (D)北部區域就業機會多、平均所得高。
- () 7. 關於臺灣本島四大區域的差異，下列敘述哪些正確？(甲)臺北都會區的地形以盆地為主體 (乙)南部區域有特殊的珊瑚礁地形 (丙)中部區域有臺灣最大的都會區 (丁)東部區域為人口密度最高的區域。 (A)甲乙 (B)丙丁 (C)甲丁 (D)甲乙丙。
- () 8. 下列哪項計畫，具有使臺灣北、中、南、東四區域均衡發展的功能？
 (A)各地興建核能發電廠與火力發電廠 (B)建立臺北都會區輕軌鐵路交通網
 (C)依資源條件及發展程度規劃發展策略 (D)設立國家公園及自然保留區。
- () 9. 我國自實施健保後，積極推動醫療院所分級，讓相關資源得以更有效率的運用。其中最高等級的教學醫院全臺共 19 間，分布如附表所示。請問：表中丁最可能為哪一區域？
 (A)北部區域 (B)中部區域 (C)南部區域 (D)東部區域。



區域	甲	乙	丙	丁
教學醫院數量(間)	5	4	9	1


- () 10. 行政院正積極推行區域發展相關計畫，希望降低各區域間的發展差異。目前離島地區若欲進行相關發展計畫，在產業發展方面以下列哪一項策略較為可行？
 (A)規畫高科技工業園區 (B)引進外勞從事加工出口業
 (C)興建大型購物中心以吸引遊客 (D)輔導地方特色民宿及生態觀光活動。
- () 11. 臺灣未來的國土空間規畫主要依據各地不同的條件來設計，期望可以為未來國家發展奠定基礎，其相關計畫如下表所示。下列敘述何者正確？

區域	定位
a	強調都市與創新產業發展
b	以生態環境資源保育為重心
c	以適性發展優質生活產業
d	強調海岸及海洋之自然珍貴資產
e	強調人文及自然環境保全與觀光發展

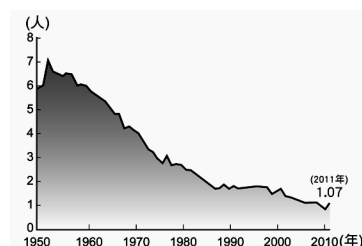


- (A)定位「以生態環境資源保育為重心」的 b 區域應位於右圖中的丁區域。
 (B)定位「以創意、創新作為城鄉轉型與發展的核心價值」位於右圖中的乙區域。
 (C)依各縣市所在位置的特性判斷，南投縣的發展方向屬於上表中 c 區域的定位目標。
 (D)d 區域屬於海洋環帶，位於右圖中的甲區域。

- ()12.由於鹽田需要某些條件配合，所以多集中於臺灣西南沿海，上述所提及的某些條件包括下列哪些？
 (甲)有廣大平原 (乙)開發時間早 (丙)乾溼季分明 (丁)日照時間長。
 (A)甲乙 (B)丙丁 (C)甲丙丁 (D)乙丙丁
- ()13.臺灣南部區域為了讓當地居民日常用水不虞匱乏，須興修水庫等水利設施，這是因為該區域乾季特別長，主要降水大部分集中在哪個季節？ (A)春季 (B)夏季 (C)秋季 (D)冬季。
- ()14.根據政府所彙整的調查報告顯示，臺灣東部區域的發展程度較其他地區落後。探討其主要的影響因素，包括下列哪些？ (甲)地形阻隔 (乙)距海遠近 (丙)發展時間 (丁)交通不便。
 (A)甲乙 (B)丙丁 (C)甲丙丁 (D)乙丙丁。
- ()15.臺灣本島依各地的特色分為四大區域，但在發展過程卻出現了明顯的差異。請問：下列選項中，何者不是導致北部與東部區域差異的因素？
 (A)土地的面積 (B)人口的多寡 (C)經濟的發展 (D)教育的程度。
- ()16.臺灣由於經濟發展差異可分為五大區域，下列選項對於區域特色的配對，哪些正確？ (甲)戰地風光：金馬地區 (乙)人口密度最低：金馬地區 (丙)科技產業最發達：北部區域 (丁)有縱谷地形分布：東部區域。
 (A)甲乙 (B)丙丁 (C)甲丙丁 (D)甲乙丙丁。
- ()17.臺灣各區域在發展過程中，受到不同條件影響而有所差異。下列各項指標，有幾項屬於東部區域的發展特色？ (甲)就業機會多 (乙)環境品質佳 (丙)平均收入高 (丁)公共設施多 (戊)生活空間大。
 (A) 1 (B) 2 (C) 3 (D) 4。
- ()18.近年來臺灣處處可見具有外國風味的商店，以及外籍人口及其下一代的社會活動。試問：下列哪一項敘述最適合此一現象所顯示的意涵？
 (A)臺灣本土意識逐漸不受重視沒落 (B)臺灣社會崇媚外國文化的習性
 (C)臺灣人口結構的增加以社會增加率為主要來源 (D)外籍人口的移入增加臺灣社會文化的多元。
- ()19.臺灣社會在民國70年代出現重大變化，當時的社會運動如洪水般排山倒海而來，成為臺灣歷史發展中一段自由解放的年代，這應歸功於何項禁令的解除？
 (A)中美共同防禦條約 (B)動員戡亂時期臨時條款 (C)戒嚴令 (D)國家統一綱領。
- ()20.自民國38年起，政府陸續實施多項土地改革，其目的在於解決租佃不公的問題。試問政府在民國30-40年代期間所施行的土地改革措施中，不包括下列哪一項政策？
 (A)農發條例 (B)三七五減租 (C)公地放領 (D)耕者有其田。
- ()21.下圖漫畫顯示西元1945~1970年，兩岸與國際外交關係的變化。如果要將漫畫按照發生的時間先後排列，下列何者正確？ (A)甲乙丙丁 (B)甲丙丁乙 (C)乙丙丁甲 (D)乙丁丙甲。



- ()22.右圖是臺灣某項統計資料的曲線圖。請問：這張圖的標題，應以下列何者較適合？
 (A)臺灣性別比的變化 (B)臺灣都市化的變化
 (C)臺灣高齡化的變化 (D)臺灣生育數的變化。



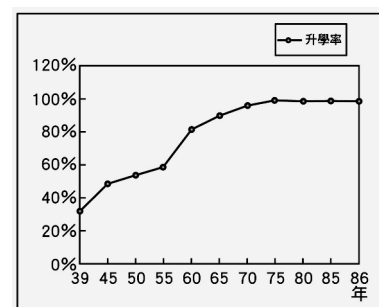
◎外交問題一直都是我國在國際發展上最受限制的課題。請回答23-24題：

- ()23.重新加入聯合國是臺灣當前目標。試問：臺灣當初為何要退出聯合國？
 (A)韓戰爆發 (B)美國與中共建交 (C)中共加入 (D)石油危機。
- ()24.美國正式與中共建交，而與我國斷交，並廢除《中美共同防禦條約》是發生於何時？
 (A)民國39年 (B)民國47年 (C)民國61年 (D)民國68年。

◎負責處理兩岸事務的機構有不少，在臺灣與中國都各有單位在處理。請回答 25-27 題：

- ()25.我國政府透過民間組織負責處理兩岸事務的單位為何？
 (A)消基會 (B)婦聯會 (C)救國團 (D)海基會。
- ()26.目前我國政府由哪個單位專責處理兩岸事務？ (A)外交部 (B)陸委會 (C)海基會 (D)國防部。
- ()27.兩岸第一次進行準官方接觸的「辜汪會談」，代表中國出席的汪道涵，是中國什麼單位的負責人？
 (A)國務院 (B)國臺辦 (C)海基會 (D)海協會。

- ()28.每個總統的兩岸施政方針會影響兩岸的互動發展。下列兩岸關係的變化與總統任期的配對，何者正確？ (A)蔣經國：頒布《國統綱領》 (B)李登輝：開放大陸探親 (C)陳水扁：開放兩岸直接通航(大三通) (D)馬英九：簽訂經濟合作協議 (ECFA)。
- ()29.洪醒夫是臺灣鄉土文學的代表作家之一，他的小說以刻畫農村百姓的生活為主，流露出對小人物的關懷與同情。試問：洪醒夫的文學作品類型是濫觴於民國哪個年代？ (A)民國40年代 (B)民國50年代 (C)民國60年代 (D)民國70年代。
- ()30.對日抗戰結束後，國共內戰，國民政府遷臺，遷臺之初兩岸局勢緊張，但因為哪一事件，促使美國派遣第七艦隊保衛臺灣海峽安全，才穩定了臺海局勢？ (A)古寧頭戰役 (B)八二三炮戰 (C)韓戰 (D)中華民國退出聯合國。
- ◎臺灣向來以經濟力在世界著名，然而這卻是經過許多階段的努力才有今日的榮景，現在就以我國各階段的經濟政策提出問題。請回答31-33題：
- ()31.民國哪個年代政府的經建計畫以自行生產民生必需品，減少進口物資為目標？ (A)民國40年代 (B)民國50年代 (C)民國60年代 (D)民國70年代。
- ()32.加工出口區的設置，是下列何者經濟政策的具體措施？ (A)十大建設 (B)進口替代 (C)產業轉型 (D)出口擴張。
- ()33.從民國40-70年代，政府因應世界經濟的變化提出不同經濟政策，其中因應國際石油危機而施行的競技政策為何？ (A)民生工業區 (B)加工出區 (C)十大建設 (D)科學園區。
- ()34.右圖是臺灣國中生升學率百分比圖。請問：自民國五十年代中期以後，國中生升學率大增的原因為何？ (A)開始實施九年一貫課程 (B)開始實施九年義務教育 (C)開始實施十二年國民教育 (D)開始實施廣設高中大學政策。
- ()35.傳統中秋節吃月餅的習俗，因為現代人重視健康的養身觀念，使得月餅也推出低糖少油的口味，讓人們可以既享受過節氣氛又能吃的健康。這說明下列何種現象？ (A)器物層次影響理念層次 (B)器物層次影響制度層次 (C)制度層次影響理念層次 (D)理念層次影響器物層次。
- ()36.下列四位同學對於「社會福利發展」的看法，何者錯誤？ (A)小臻：「近年來，福利社會強調由人民自立自強謀求自身權益。」 (B)阿宏：「進入二十世紀，政府提前預防人民生活發生困難。」 (C)小薰：「工業革命後，政府介入保障弱勢群體權益。」 (D)阿凱：「中世紀時期，宗教組織施捨救濟。」
- ()37.自從解嚴之後，人民享有言論自由，所以有人認為「只要我喜歡，有什麼不可以」，主張任何言論都可發表，甚至口出穢言、辱罵別人。請問：這是社會變遷所帶來的何種衝擊？ (A)價值觀念的混淆 (B)弱勢權益的忽視 (C)貧富差距的擴大 (D)生活品質的下降。
- ()38.雲林縣政府針對65歲以上獨居民眾，實施獨居老人關懷訪視及電話問安服務，透過定期關懷，了解老人現況與需求。上述措施主要在落實何項社會福利政策？ (A)社會保險 (B)社會救助 (C)就業安全 (D)福利服務。
- ()39.引起社會變遷的原因有很多，下列有關社會變遷的配對中，何者正確？ (甲)日本卡通引進臺灣：科學技術的發展 (乙)全球氣候不穩定：自然環境的變化 (丙)大埔拆遷抗議：社會運動的推動 (丁)臉書平臺：外來文化的刺激 (A)甲乙 (B)乙丙 (C)丙丁 (D)甲丁。
- ()40.某一電視節目談論的主題是「政府辦理社會福利措施的經費」，下列哪一位民眾的發言內容最正確？ (A)劉伯伯：我國經濟發展良好，因此國庫豐沛 (B)蔡阿姨：若面臨經費不足，公益團體應接手辦理社會福利措施 (C)謝小姐：由於人民繳納的稅款充足，不需要擔心經費問題 (D)張爺爺：政府財政負擔愈來愈重，應嚴格控管支出。
- ()41.人們的通信方式從早期的「飛鴿傳書」到「快馬送件」，而今日則強調「上午送件，下午取貨」。這和下列何種變化是屬於相同的社會變遷？ (A)士農工商→行行出狀元 (B)不打不成器→愛的教育 (C)三合院→高樓大廈 (D)聯考入學→多元入學。



- ()42.關於「社會福利政策」的配對，下列哪項正確？
 (A)國民年金——社會救助 (B)身心障礙者福利津貼——健康與醫療照護
 (C)推動無障礙空間——福利服務 (D)青年安心成家購屋優惠貸款——社區營造。
- ()43.陳太太從在夜市擺攤的家庭主婦，經過不斷的努力，最後成為公司的董事長。上述這個現象可以說明下列何種概念？ (A)社會分工 (B)社會正義 (C)社會變遷 (D)社會流動。
- ()44.我國《憲法》第152條規定：「人民有工作能力者，政府應給予適當的工作機會。」這是藉由法律保障並促使人民能充分就業。上述觀念與哪一種社會福利思想相符合？
 (A)壯有所用 (B)幼有所長 (C)矜寡孤獨廢疾者皆有所養 (D)老有所終。
- ()45.根據統計，在家庭收支調查報告中發現，一般家庭都變窮了，但位於金字塔頂端的消費族群，卻有擴大的趨勢。請問此現象為哪方面的社會問題？
 (A)家庭方面 (B)環境方面 (C)犯罪方面 (D)資源分配方面。
- ()46.瑄瑄收到一則簡訊，內容如以下所示。請問：簡訊內容應與下列何者內涵相近？

你收到一則新訊息
 「好友王小雅買『愛's霜淇淋』送您，
 邀您一起助偏鄉童！」讓我們一起攜手
 做公益！

- (A)適當的社會福利政策，能夠解決少子化問題
 (B)企業團體推廣公益，有助於增加營收
 (C)貧富差距擴大，導致社會流動現象消失
 (D)社會大眾發揮互助力量，共同分擔社會責任。
- ()47.年近七十的陳奶奶在自家附近的社區大學上電腦課，讓自己能和就讀國小的孫子有共同的話題。由此可知，陳奶奶秉持下列何種精神來充實自我？
 (A)遵守法律 (B)多元尊重 (C)終身學習 (D)公平正義。
- ()48.因為經濟不景氣，所以吳先生的公司倒閉了；面對中年失業，他想學習一些專業技能以便再找工作。請問吳先生最需要哪項社會福利政策的協助？
 (A)就業安全 (B)居住正義 (C)福利服務 (D)健康與醫療照護。
- ()49.面對社會的快速變遷，以下四人的應對之道，何者不適當？
 (A)小芳：到圖書館蒐集資料，養成良好習慣 (B)小璇：參加幫派組織，拓展人際關係
 (C)阿辰：閒暇時，到歷史博物館參觀展覽 (D)阿偉：參加社會團體的愛護地球遊行。
- ()50.創世基金會提供獨居老人到宅服務、罕見疾病基金會協助患者爭取醫療資源等社會福利工作。上述民間團體的做法，主要是為了落實下列何種理想？
 (A)社會秩序安定 (B)追求社會正義 (C)社會文化發展 (D)加速社會變遷。