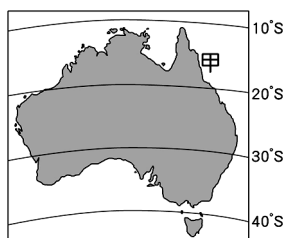
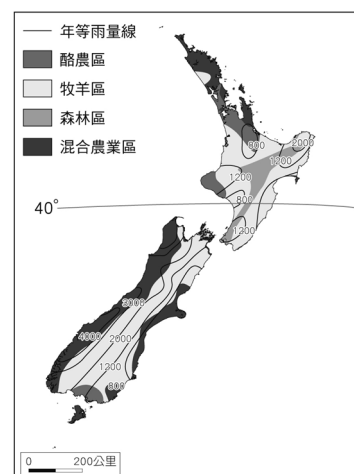


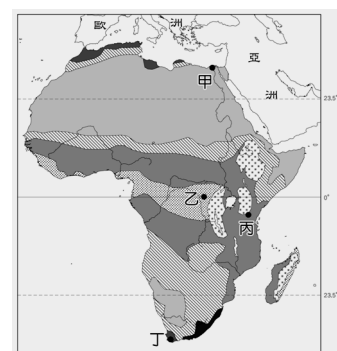
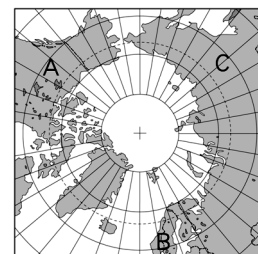
高雄市立大灣國中 106 學年度第二學期三年級第二次評量社會科試題卷

※答案卡個人資料畫記錯誤將扣得分總分 5 分

- () 1. 如果要從日本飛往北歐的瑞典，往西北方向飛行橫越下列哪個地區，可縮短飛航距離，節省時間，降低飛航成本的目標？ (A) 赤道區 (B) 北極區 (C) 大洋洲 (D) 南極區。
- () 2. 根據外電新聞報導：有一德國人航行至玻里尼西亞島群中的某小島後失蹤，疑似被當地食人族烤食，但遭小島居民駁斥，因為食人傳統早就廢除了。請問：關於上述「玻里尼西亞島群」的位置，下列哪項敘述正確？
(A) 位於赤道以南的印度洋 (B) 位於國際換日線以東的太平洋
(C) 位於本初經線通過的大西洋 (D) 位於北回歸線通過的加勒比海。
- () 3. 「海功號是農委會水產試驗所投資建造的試驗船，曾四度遠赴南極探測南極蝦漁場資源。西元 1976 年 12 月，海功號從基隆八斗子漁港出發，橫渡印度洋，經南非開普敦到南極洲，進行南極蝦漁場開發，隔年 3 月返臺，並帶回百餘噸南極蝦資源，成功的將遠洋漁業觸角伸向南極。西元 1993 年 1 月，海功號功成身退，西元 1998 年上岸，成為基隆碧砂漁港的重要地標。」海功號於 12 月從臺灣航行至南極，隔年 3 月返臺。請問：海功號停留在南極的主要季節為何？
(A) 春季 (B) 夏季 (C) 秋季 (D) 冬季。
- () 4. 非洲氣候普遍炎熱且大致呈南北對稱分布，此與下列哪個現象密切相關？
(A) 山脈南北縱走 (B) 赤道橫貫中部 (C) 本初經線縱貫西部 (D) 地勢南北高、中央低。
- () 5. 「澳洲有只能走而不能飛的鳥，有只用雙腳行走的蟋蟀，有腳上長蹼的老鼠，真是個『珍貴動物博物館』。」下列何者是形成這種現象的主要因素？ (A) 地質古老生態較複雜 (B) 四面環海與各大陸隔絕 (C) 熱帶沙漠面積廣大難以進入 (D) 大分水嶺阻隔東西交通。
- () 6. 秉逸是一位遠洋航運的菜鳥船員，他在航海日誌上寫著：「第一次從印度洋航向地中海，經過紅海後，即將要進入運河了，心中真是澎湃不已！」請問：上述航海日誌中提及的運河為下列何者？
(A) 基爾運河 (B) 京杭大運河 (C) 巴拿馬運河 (D) 蘇伊士運河。
- () 7. 右圖為紐西蘭年降水量及農牧業分布圖。由圖可知紐西蘭西岸降水量豐富，東岸降水量較少，此種現象與下列哪兩項因素有關？
(A) 洋流、地形 (B) 風向、緯度 (C) 緯度、洋流 (D) 地形、風向。
- () 8. 西元 2009 年，下圖中的「甲」地在網路上發出這樣的徵才訊息：「工作內容是打掃游泳池、餵魚、在碧海藍天中盡情探索，並回報你的心得，待遇是半年新臺幣 338 萬元。」請問：「甲」地應是下列何處？
(A) 密爾福峽灣 (B) 好望角 (C) 艾爾斯岩 (D) 大堡礁。



- () 9. 澳洲是最早也是少數進行「通訊教育」的國家。在部分農村地區小學生不需要到校上課，每週五天在家透過電話等通訊設施上課即可，而老師可能在 400~500 公里以外的地方授課。請問：形成上述現象的原因跟下列何者有關？
(A) 氣候嚴寒 (B) 經濟落後 (C) 緯度較高 (D) 地廣人稀。
- () 10. 林竑是北極探險家，他的船隊依序經過右圖中三大洲，此順序 A、B、C 應為下列何者？
(A) 北美洲、亞洲、歐洲 (B) 歐洲、亞洲、北美洲
(C) 亞洲、北美洲、歐洲 (D) 北美洲、歐洲、亞洲。
- () 11. 右圖為非洲氣候與天然植物分布圖，甲~戊為非洲五個城市。吉力馬札羅山是一座位於赤道的雪山，由山下至山上可一次體驗一年四季的氣候變化。若縉瑋登山者想挑戰此山，應前往圖中何地？ (A) 甲 (B) 乙 (C) 丙 (D) 丁。



- ()12.西元 2013 年 12 月，伊波拉病毒在西非引爆大流行，此乃伊波拉出血熱史上最嚴重的一次爆發，臨床致死率高達 71%，根據世界衛生組織的統計，截至西元 2015 年 7 月 30 日，全世界已有 11,295 人死亡，主要集中在幾內亞灣沿岸三國：賴比瑞亞、獅子山及幾內亞(右圖深色處)，這三個國家以銷售礦產、熱帶栽培作物為國家主要收入。請問：幾內亞灣沿岸三國賴比瑞亞、獅子山及幾內亞，所種植的熱帶栽培作物最可能為下列何者？

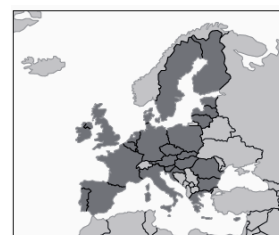


- (A)棉花、花生 (B)柑橘、葡萄 (C)咖啡、可可 (D)大豆、玉米。
- ()13.承上題，伊波拉病毒因其高致死率令人聞之色變，第一次爆發流行是西元 1976 年時發生在非洲剛果，造成 281 起死亡。與西元 1976 年的疫情相較，西元 2014 年爆發的伊波拉疫情傳播速度更快、範圍更廣。該現象與下列哪項原因最相關？ (A)非洲醫療資源較從前落後 (B)種族隔離政策延緩就醫 (C)交通運輸進步，國際交流頻繁 (D)部落社會拒絕西方醫療。
- ()14.哪個區域性的經貿組織已逐漸發展出共同貨幣與議會，甚至已由經貿統合轉為政治統合的趨勢？ (A)石油輸出國組織 (B)亞太經濟合作會議 (C)歐洲聯盟 (D)北美自由貿易協定。
- ()15.區域間的大型經貿組織總吸引各國爭相加入，不管是已開發國家或開發中國家皆是如此，一般說來這些國家最可能基於甚麼理由而加入？ (A)希望無代價的獲取自己國家經濟生產不足之處 (B)提升國家知名度與執政者的威望 (C)避免邊緣化，而無法與有結盟的經濟體競爭 (D)更易竊得他國軍政消息，提升國家國防戰力。
- ()16.為了減少全球氣候變遷帶來的威脅，世界各國陸續限制氟氯碳化物的排放，這是下列何項議定的成果？ (A)蒙特婁議定書 (B)生物多樣性公約 (C)京都議定書 (D)凡爾賽條約。
- ()17.電影《不願面對的真相》、《明天過後》等影片中，提及冰河融化、海平面上升、全球氣候異常加劇甚至造成毀滅性災難的片段。這主要是因為地球何項變異造成的結果？ (A)全球暖化 (B)核廢料汙染 (C)酸雨異常 (D)臭氧層破壞持續擴大。
- ()18.一次大戰後，民族自決思潮流行，亞洲民族復興運動也因此蓬勃發展。請問：有關此時期的世界情勢，下列敘述何者正確？ (A)民族自決的提倡與羅斯福提出的「十四點原則」有關 (B)法國未能實踐讓印度獨立自治的承諾，所以在戰後爆發反法運動 (C)鄂圖曼土耳其帝國在戰後被迫割地賠款，幸有凱末爾領導民族復興運動 (D)朝鮮爆發三一運動是為脫離美國的統治。
- ()19.義大利和德國都在一次大戰後展開極權統治，除此之外，當時兩國還有下列哪個共同點？ (A)都是一次大戰的戰勝國 (B)都提出反共主張 (C)法西斯黨與納粹黨都發動政變，取得政權 (D)皆推行計畫經濟來促進國防發展。
- ()20.第一與第二次世界大戰為人類近代歷史上兩次重大浩劫。請問：關於兩次世界大戰的比較，下列敘述何者正確？ (A)一次大戰的導火線為塞拉耶佛事件；德國入侵波蘭則導致二次大戰歐洲戰場的爆發 (B)兩次大戰都是同盟國獲勝 (C)兩次大戰英國都是中途參戰 (D)兩次大戰後均設立國際組織，且持續運作至今。
- ()21.右圖中的深色部分在二次大戰後，曾發生過區域衝突，直至今日，仍是當地人心中很大的傷痛。關於上文內容，下列敘述何者正確？ (A)此場衝突指的是韓戰 (B)這區域曾經是英國的殖民地 (C)美國曾經介入這個區域衝突 (D)最後這個地區分裂為兩個國家。
- ()22.《世界現代史圖集》裡有如下圖的漫畫，由圖中的內容判斷，其發言人可能是下列哪一國人？ (A)中國 (B)北韓 (C)印尼 (D)古巴。



- ()23.第一次世界大戰結束後，歐洲強權勢力動搖，亞洲紛紛展開民族復興運動，這些領袖當中哪一位特別致力宗教上的改革，主張政教分離？ (A)甘地 (B)凱末爾 (C)林獻堂 (D)明治天皇。
- ()24.列寧與史達林為二十世紀俄國歷史上呼風喚雨的人物。請問：關於列寧和史達林的比較，下列何者正確？ (A)列寧推翻俄皇尼古拉二世，透過十月革命控制政局 (B)史達林於戈巴契夫後掌權，導致蘇聯解體 (C)列寧推行計畫經濟，史達林創立共產國際 (D)列寧使俄國退出第一次世界大戰，史達林與希特勒簽下德蘇互不侵犯條約。

- ()25.一九三〇年代，美國街上出現大量的失業者，關於這個現象，下列解釋何者正確？
 (A)這波經濟不景氣的情況，最初起於戰敗的德國，再逐漸傳播至美國
 (B)美國提高關稅，造成其他國家起而仿效，導致全球性的經濟不景氣
 (C)亞洲在經濟上與歐美國家的關聯不深，因此不受這波經濟不景氣影響
 (D)蘇聯列寧的崛起主要與這波經濟大恐慌有關。
- ()26.許多政治人物會以簡短有力的字句來號召群眾，獲得支持。請問：下列人物與口號的配合，何者錯誤？ (A)甘地：物競天擇、適者生存 (B)墨索里尼：恢復古羅馬光榮 (C)希特勒：廢除《凡爾賽條約》 (D)列寧：和平、土地、麵包。
- ()27.西元1938年9月，二次大戰爆發前一年，德國、義大利、英國和法國四國首腦召開了會議，並簽署了某項協定，會中英、法採取姑息政策，贊成將捷克斯洛伐克以德語為主的蘇臺德區與德國合併，以滿足德國的願望。請問：這個會議是在下列何處召開的？
 (A)巴黎 (B)慕尼黑 (C)倫敦 (D)雅爾達。
- ()28.西元1940年英國首相邱吉爾對英人說：「我們將再度證明我們能保衛我們的家，挺過戰爭的驚濤駭浪……我們永不投降。」邱吉爾說這些話的歷史背景為何？ (A)德國兼併捷克 (B)德國對英國實施無限制潛艇政策 (C)德國對倫敦實行疲勞轟炸 (D)協約國和同盟國形成壕溝戰。
- ()29.「聯合國」設立至今已經快70年了，其對國際間許多事務都有極大的貢獻。關於這個國際組織的敘述，下列何者正確？ (A)聯合國的設立是在第一次世界大戰後所決議 (B)此組織的總部設在瑞士日內瓦 (C)安理會設有維和部隊，可制裁侵略 (D)大會之下的常任理事國擁有否決權。
- ()30.「冷戰」泛指國際間除武力衝突外的其他一切緊張、對峙的狀態。二次大戰後，世界局勢出現冷戰的緊張局面。請問：這是指哪兩股勢力的對立？ (A)第一世界與第三世界 (B)伊斯蘭文明與西方文明 (C)以色列與阿拉伯國家 (D)民主國家與共產陣營。
- ()31.一位老先生述說著自己國家的改變：「小時候，國內的每一個廣場都可以看見馬克思和列寧的銅像，現在國內的銅像都拆了，國歌也換了，連錢幣都改了。原本哪都不能去，現在可以去世界旅行，方便許多。」請問：這位老先生所說的改變是指何事？
 (A)越南統一前後 (B)南北韓分裂前後 (C)東西德分裂前後 (D)蘇聯解體前後。



- ()32.右圖深色部分是某區域性組織成員的分布圖，從圖中內容判斷，這應是下列哪個組織的成員分布圖？
 (A)歐洲聯盟 (B)東南亞國協 (C)華沙公約組織 (D)石油輸出國組織。
- ()33.玉娟提到：「透過傳播媒體的宣傳，美國的搖滾樂、嘻哈音樂、偶像明星等很快的被推銷到世界各地，影響著世界其他地區的文化發展。」請問：玉娟所說的與下列何者有關？
 (A)區域統合組織的出現 (B)冷戰的結束 (C)大眾文化的形成 (D)歐洲中心論。
- ()34.維彥在課堂上所整理的筆記如附表。請問：這些內容皆與下列何事有關？
 (A)美國的孤立主義 (B)美國的門戶開放政策 (C)美國的關稅壁壘政策 (D)美國的圍堵政策。

時間	體系、內容
1947年	馬歇爾計畫
1949年	北大西洋公約組織
1954年	中美共同防禦條約

- ()35.每個人均是地球公民，對地球環境保護應盡一分心力，身為國中生的你，可以如何參與響應環境保護？(甲)使用含氟氯碳化物的罐裝噴霧髮膠(乙)購物時自備購物袋(丙)外食時自備餐具(丁)做好資源回收 (A)甲乙丙 (B)甲乙丁 (C)甲丙丁 (D)乙丙丁。
- ()36.根據聯合國發表的世界發展狀況報告，世界上有12億人每天只有一美元過活，而有1億名兒童仍然要露宿街頭，相比起來，世界上200名最富裕的人財富合起來，達到1萬億美元。從上述可以觀察到下列哪一個議題漸趨嚴重？
 (A)貧富差距議題 (B)跨國疾病議題 (C)國際犯罪議題 (D)環境議題。
- ()37.國際組織若依據參與成員的分布區域，可分成「全球性的國際組織」與「區域性的國際組織」兩大類，下列組合何者有誤？ (A)世界貿易組織—全球性 (B)世界衛生組織—全球性 (C)亞太經濟合作會議—全球性 (D)歐洲聯盟—區域性。
- ()38.外交部與教育部共同舉辦的外交小尖兵選拔活動，目的在提高年輕學子的英語表達溝通能力、培育對國際事務的興趣。請問：外交部舉辦此活動的主要目的為下列何者？
 (A)培養學生國際觀，落實全民外交 (B)從小開始培訓外交官員，培訓人才
 (C)訓練學生參與政治，培養國家領導人 (D)培養學生語文能力，發展英語教學。

()39.請問：關於非政府的國際組織的敘述，下列何者正確？ (A)成員以單一地區的國家為主 (B)為非營利、志願性組織 (C)由各主權國家簽訂條約建立 (D)政府為主導單位，具官方性質。

()40.下列何者最能說明下述內容所呈現的狀況？

北韓長期發展國防武力，導致成千上萬的北韓人因饑荒而喪生。軍事專家統計，北韓發射飛彈須花費 800 億北韓圓，相當於 21 億新臺幣，可用來買 23 萬噸玉米，讓北韓人民吃 7 個月左右。

- (A)國際衝突威脅區域的和平 (B)軍備競賽對民生經濟的衝擊
(C)國際貿易造成貧富差距擴大 (D)國際組織對於世界和平的影響。

()41.某非政府國際組織表示，他們在世界各地舉辦「飢餓三十」活動，體驗生處於非洲飢荒的感受。請問：此組織較可能為下列何者？

- (A)國際特赦組織 (B)無國界醫生 (C)國際紅十字會 (D)世界展望會。

()42.人類經歷過無數戰爭的蹂躪摧殘，為避免這種情勢再度發生，近來聯合國成立國際原子能總署努力推動軍備管制，並簽署相關條約。請問：下列哪一項便是因該項目標而簽訂？

- (A)《人權宣言》 (B)《巴黎協定》 (C)《禁止核子武器擴散條約》 (D)《蒙特婁議定書》。

()43.面對美國牛肉的議題，政府提到開放帶骨牛肉進口的主要因為臺灣是世界貿易組織 (WTO) 及世界動物衛生組織 (OIE) 的會員國，此舉是為了回應成員國之要求。請問：我國加入世界貿易組織 (WTO) 是以下列哪一名稱加入？

- (A)中華臺北 (B)中華民國 (C)臺灣 (D)臺澎金馬個別關稅領域。

()44.老師截取如附圖所示的報導作為解釋國際衝突的例子。請問：關於國際衝突的理解，下列何者正確？

跨國公民團體「全球防止武裝衝突夥伴」簽署《臺北海洋和平宣言》，呼籲東北亞各國共同分享資源，以和平對話取代武裝衝突。

- (A)國際衝突是國際互動方式中最平和的一種 (B)藉由國際組織協商可解決國際衝突
(C)武力攻擊是處理國際衝突最理想的方式 (D)透過外交途徑解決國際衝突將造成雙方敵對。

()45.我國贊助哥倫比亞鄉村學校興建教室，受到村民及師生的真誠感謝。請問：我國的贊助行為屬於何種國際互動方式？ (A)國際援助 (B)國際衝突 (C)國際交流 (D)國際合作。

()46.許多企業研發各種可再生使用的產品，以減少地球資源的消耗，同時也改採視訊會議的方式來開會，以減少員工在交通往返上所花費的金錢與產生的汙染。上述做法的目的是為了符合下列哪一種概念？ (A)跨國企業的結合 (B)交通技術的革新 (C)網際網路的應用 (D)永續發展的推動。

()47.地球是我們賴以生存的家園，但近年來地球環境已面臨許多問題，影響人類未來的生存，這些問題包括下列哪幾項？(甲)臭氧層破洞(乙)全球暖化(丙)網路犯罪(丁)熱帶雨林破壞

- (A)甲乙丙 (B)甲丙丁 (C)甲乙丁 (D)乙丙丁。

()48.以下是我國海關緝毒犬的專屬網站簡介內容。根據下述，我國設置緝毒犬制度的目的是為了解決哪一項問題？

- 緝毒犬為緝毒利器：緝毒犬嗅覺靈敏、機動性高、使用範圍廣，可提升海關緝毒能力，彌補人力之不足，並廣為各國海關採用。
- 截毒於關口之必要性：臺灣毒品來源多自其他國家走私進口，若能有效運用緝毒犬予以攔截，可達截毒於關口之目的。

- (A)跨國疾病 (B)跨國犯罪 (C)恐怖活動 (D)貧富差距。

()49.2001 年美國遭受國際恐怖分子以「飛機炸彈」方式衝撞世貿大樓等地，造成重大傷亡。此事件屬於國際社會的哪一種互動方式？ (A)國際交流 (B)國際援助 (C)國際衝突 (D)國際合作。

()50.現在生態環境面臨重大的威脅，如果我們仍未重視環境問題，未來將會面臨到生存的危機。請問：為了維護生態環境，人類對於下列哪些行為應該更加節制？(甲)經濟活動的擴張(乙)不當的生活習慣(丙)規律的生活方式(丁)環保科技的發展 (A)甲乙 (B)乙丁 (C)甲丙 (D)丙丁。